


1. Odczytaj, ile płynu znajduje się w każdym pojemniku.

1 litr = 1 l



2. Ile wody przelano do butelek? Oblicz, ile wody zostało w każdej beczce.

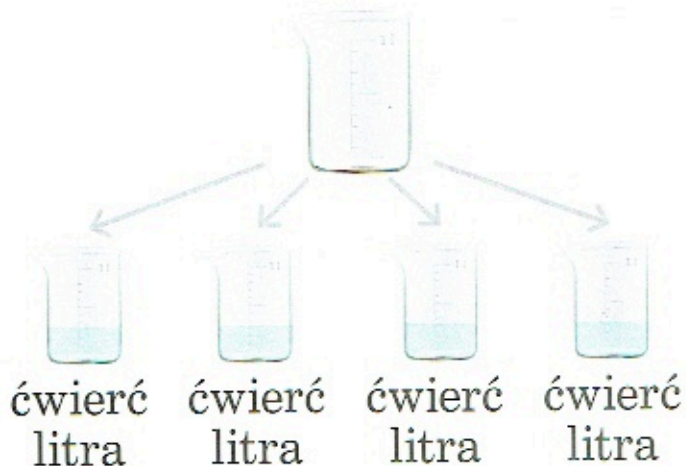



? l



? l

3. Do ilu naczyń przelano litr wody?



4. Z ilu półlitrowych naczyń trzeba przelać wodę, żeby nappełnić butelki: 1-litrową, 2-litrową, 5-litrową?

5. Z ilu ćwierćlitrowych naczyń trzeba przelać wodę, żeby nappełnić butelki: półlitrową, dwulitrową, pięciolitrową?